

IES Juníper Serra.  
Departament de Ciències Socials.



## Geografia i història

### Recuperació de Segon d'ESO.

NOM: _____ CURS 2n _____	
<input type="checkbox"/> Ha de realitzar la prova escrita.	<input type="checkbox"/> Ha de realitzar el dossier d'activitats

**Per poder recuperar la matèria no aprovada** l'alumnat s'ha de presentar a la realització d'una **prova escrita** el mes de setembre. Igualment ha de lliurar, el mateix dia de l'examen, **un dossier amb les activitats** de recuperació proposades.

La prova escrita suposarà el 40% de la nota (10% vocabulari i 30% preguntes relacionades). El dossier d'activitats suposarà el 60% de la qualificació (10% presentació, 20 % vocabulari, 30% altres activitats).

Per poder aprovar la matèria s'ha d'obtenir un qualificació igual o superior a cinc, i la prova escrita i el dossier d'activitats no poden tenir una nota inferior a 3'5.

- El dossier s'iniciarà amb una portada i un índex de les activitats realitzades.
- Es valorarà la correcta presentació de les feines, tant en l'ordre i la pulcritud com en l'adequat nivell ortogràfic.
- **Les activitats han de ser contestades de la manera més completa, personal i reflexiva possible.**
- La data de lliurament de les activitats encomanades i de realització de la prova escrita de recuperació serà el dia 25 de gener de 2012.

El professor responsable:

Palma, 2 de novembre de 2011

Treball. Vocabulari	20%	
Treball. Activitats	30%	
Presentació.	10%	
	60%	
Ex. Activitats	30%	
Ex. Vocabulari	10%	
<b>Total</b>	100%	

## A. VOCABULARI BASIC

**Defineix correctament els següents conceptes i noms. Màxim 3 punts.**

### Tema 1.

- Pobles germànics
- Orfebreria
- Imperi Bizantí
- Justinià
- Mahoma
- Musulmà
- Hègira
- Carlemany

### Tema 2.

- Feudalisme
- Feu
- Noblesa
- Clergat
- Pagesos
- Delme
- Guaret

### Tema 3

- Art romànic.
- Catedral
- Planta de creu llatina
- Naturalisme
- Pantocràtor

### Tema 4

- Rotació triennial de conreus
- Calls o jueries
- Burgès
- Gremi
- Obra mestra

### Tema 5

- Art gòtic
- Arc ogival
- Rosassa
- Vidriera
- Timpà

### Tema 6.

- Al-Àndalus
- Taifes
- **Hagib**

### Tema 7.

- Marca Hispànica
- Reconquesta
- Repoblament
- Cartes de poblament
- Transhumants
- Cònsols de mar
- Repartiment

### Tema 8.

- Caravel·la
- Cultures precolombines
- Asteques
- Inques
- Maies
- Imperis ultramarins

### Tema 9.

- Pesta negra
- Burgesia
- Burocràcia
- Unió dinàstica
- Judeoconversos

### Tema 10

- Acadèmies
- Indulgències
- Perspectiva
- Mecenes

### Temes 11 i 12

- Favorit
- Pau d'Augsburg
- Germanies
- Morisc

### Tema 14 .

- Explosió demogràfica
- Densitat de població
- Natalitat
- Taxa de fecunditat
- Mortalitat
- Esperança de vida
- Mesquita
- L'Alhambra
- Hamman
- Emir
- Califà

## ELS SEGLES

Un segle és un període de cent anys. Els segles s'escriuen amb xifres romanes i es compten, com els anys, des del naixement de Crist cap endavant i cap enrere.

► Completa l'esquema. Escriu els segles que falten i els anys que abraça cada segle.

		DES DE	FINS A
	s. V		
abans de Crist	II	101 aC	200 aC
	I	1 aC	100 aC
després de Crist	I	1	100
	II	101	200
	V	401	500
	X		
	XV		
		2001	2100

► Respon les preguntes.

- En quin segle estem? \_\_\_\_\_
- En quin segle vas néixer? \_\_\_\_\_
- De quin any a quin any abraça el segle xx? \_\_\_\_\_
- Fa 500 anys, quin segle era? \_\_\_\_\_
- Fa 1.000 anys, quin segle era? \_\_\_\_\_

**1.- Ordena cronològicament els períodes històrics.**

EDAT MODERNA.  
 EDAT ANTIGA.  
 PREHISTÒRIA.  
 EDAT CONTEMPORÀNIA.  
 EDAT MITJANA.

1	
2	
3	
4	
5	

**2.- Completa les frases amb els noms dels períodes històrics corresponents.**

La \_\_\_\_\_ va començar quan es va inventar l'escriptura.

La \_\_\_\_\_ va començar amb la Revolució francesa.

La \_\_\_\_\_ va començar amb el descobriment d'Amèrica.

La \_\_\_\_\_ va començar amb l'aparició dels primers éssers humans

La \_\_\_\_\_ va començar amb la desaparició de l'Imperi romà

**TEMA 1. L'inici de l'Edat Mitjana.**

**1.- Completa els següents quadres amb la informació fonamental de cada una de les civilitzacions estudiades.**

**- Els regnes germànics:**

<b>POLÍTICA</b> (Qui té el poder i com s'organitza)	<b>ECONOMIA</b> (Quines són les activitats econòmiques, a què es dedica la població)	<b>SOCIETAT</b> (En quins grups socials es divideix la població)	<b>CULTURA</b> (Llengua, religió, art)

**- L'Imperi Bizantí:**

<b>POLÍTICA</b> (Qui té el poder i com s'organitza)	<b>ECONOMIA</b> (Quines són les activitats econòmiques, a què es dedica la població)	<b>SOCIETAT</b> (En quins grups socials es divideix la població)	<b>CULTURA</b> (Llengua, religió, art)

**- L'Islam:**

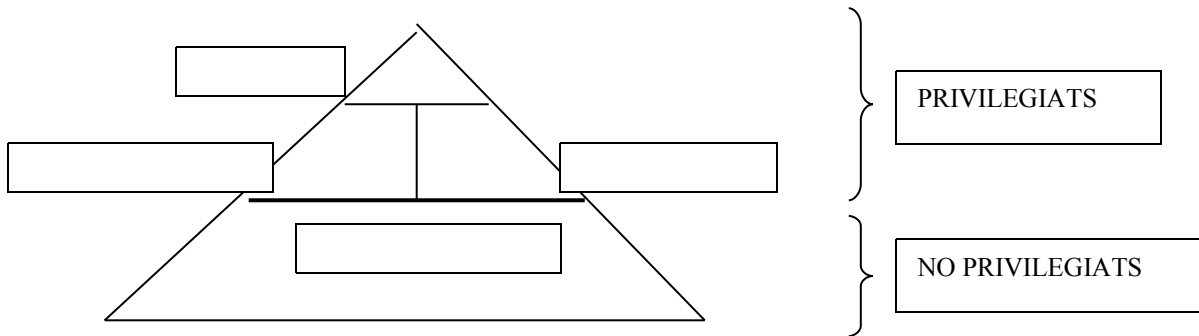
<b>POLÍTICA</b> (Qui té el poder i com s'organitza)	<b>ECONOMIA</b> (Quines són les activitats econòmiques, a què es dedica la població)	<b>SOCIETAT</b> (En quins grups socials es divideix la població)	<b>CULTURA</b> (Llengua, religió, art)

**- L'Imperi carolingi:**

<b>POLÍTICA</b> (Qui té el poder i com s'organitza)	<b>ECONOMIA</b> (Quines són les activitats econòmiques, a què es dedica la població)	<b>SOCIETAT</b> (En quins grups socials es divideix la població)	<b>CULTURA</b> (Llengua, religió, art)

## **TEMA 2. La societat feudal**

1.- Completa la següent piràmide amb els grups de la societat feudal.



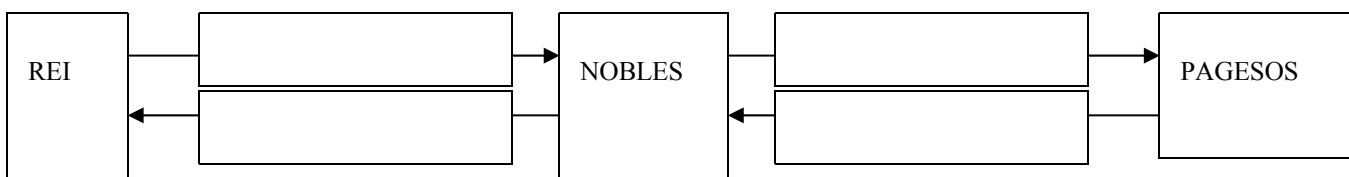
2.- Explica a què es dedicaven i on vivien cada un dels estaments de la societat feudal:

- Noblesa: \_\_\_\_\_
- Clergat: \_\_\_\_\_
- Pagesos: \_\_\_\_\_

3.- Explica quina diferència hi havia entre pertànyer a una classe privilegiada i a una no privilegiada.

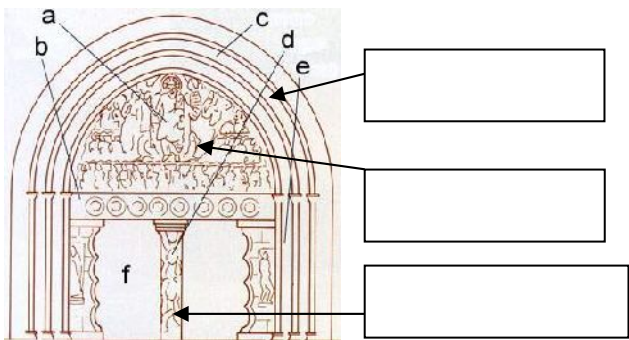
4.- Completa el següent esquema sobre les relacions de vassallatge amb les paraules del quadre:

Concedeixen protecció, li paguen rendes, concedeix un feu, juren fidelitat



## **TEMA 3 i 5. L'art a l'Època Medieval. L'Art Romànic i l'Art Gòtic.**

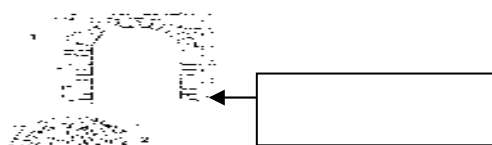
1.- Escriu als buits el nom dels elements arquitectònics que s'indiquen al quadre de sota.



[ ]

[ ]

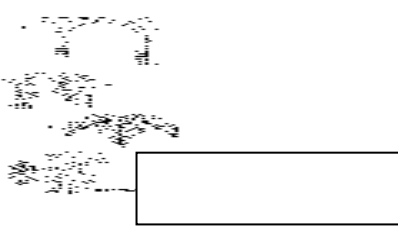
[ ]



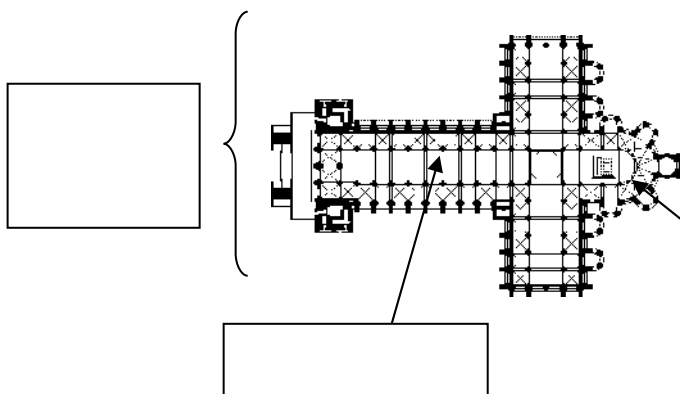
[ ]



[ ]



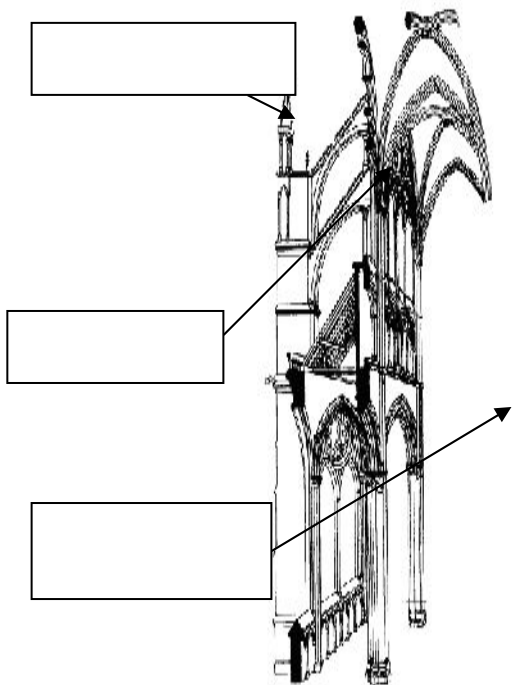
[ ]



[ ]

[ ]

[ ]



[ ]

[ ]


[ ]

[ ]

[ ]

[ ]

[ ]



Arc de mig punt, arc ogival, trencallum, timpà, contrafort, volta de canó, rosassa, cuculla, pilar, arcbotant, nau principal, girola, planta de creu llatina, pinacle, volta de creueria, arquivoltes.

2.- Escriu tres diferències entre l'escultura romànica i la gòtica.

3.- Escriu tres diferències entre la pintura romànica i gòtica.

#### **TEMA 4. El reviscolament de les ciutats**

##### **- Contesta les següents preguntes**

1.- Per què augmenta la producció agrícola a mitjans del segle XII a Europa?

2.- Quines foren les causes del creixement de les ciutats en aquesta època?

3.- Com s'organitzaven els tallers artesanals? Quines categories de treballadors i hi havia? En què es diferenciaven?

#### **TEMA 6: Al-Àndalus.**

1.- Copia i completa del llibre el quadre cronològic de la pàg. 90 Ex. 20 (A un altre full)

#### **TEMA 7: Els regnes cristians hispànics**

1.- Completa els quadres cronològics del llibre de la pàgina 114 Ex. 32 (A un altre full)

2.- Completa l'esquema del llibre de la pàg. 116 Ex. 4 (A un altre full)

#### **TEMES 8 i 9: EL COMENÇAMENT DE L'EDAT MODERNA**

1.- Compara la situació al final de l'edat mitjana i al començament de l'edat moderna. Fes el quadre resum del llibre de la pàg. 138 Ex. 12

**TEMA10: .EL CANVI CULTURAL: RENAIXEMENT I REFORMA**

1.- Compara l'Humanisme, el Renaixement i la Reforma. **Fes el quadre resum del llibre de la pà 155 Ex. 22 (A un altre full)**

2.- Compara l'art del Quattrocento i del Cinquecento i les diferents religions que hi havia a Europa a la primera del segle XVI. **Fes els quadres resum del llibre de la pàg. 155 Ex. 23 (A un altre full)**

**TEMES 11 i 12: .EL SEGLE XVI I EL SEGLE XVII**

1.- Completa el quadre-resum següent:

	SEGLE XVI	SEGLE XVII
Nom del període		
Monarques		
Política		
Economia		
Població		

**2.- Completa el següent quadre-resum sobre la monarquia espanyola:**

	Monarca i període	Política interior	Política exterior
<b>ÀUSTRIES MAJORS</b>			
<b>ÀUSTRIES MENORS</b>			

## **TEMA 14: LA POBLACIÓ DEL MÓN**

1 -Completa observant el tema 14 del teu llibre que ens indiquen i com es calculen els següents indicadors demogràfics:

	Què és?	Com es calcula?
<b><u>DENSITAT DE POBLACIÓ</u></b>		
	Què és?	Com es calcula?
<b><u>TAXA BRUTA DE NATALITAT</u></b>		
	Què és?	Com es calcula?
<b><u>TAXA DE FECUNDITAT</u></b>		
	Què és?	Com es calcula?
<b><u>TAXA BRUTA DE MORTALITAT</u></b>		

2 - Observa el mapa de la pàgina 214 i 215 i digués quines són les zones més densament poblament poblades de la Terra.